

Opdracht 1


> Ze willen allemaal naar 100.
Hoeveel sprongen van 10 moeten ze maken?
Vul in.




___ sprongen van 10
en 3 stappen van 1.




___ sprongen van 10
en 1 stap van 1.



___ sprongen van 10
en 2 stappen van 1.



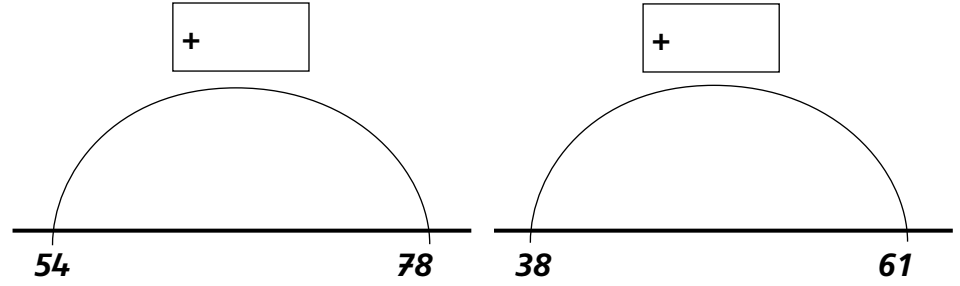
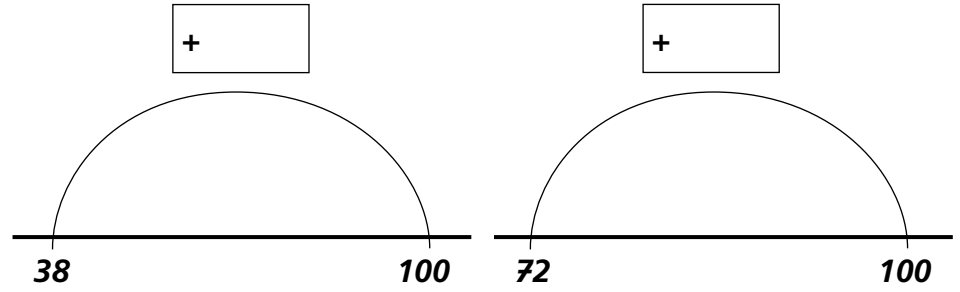
___ sprongen van 10
en 4 stappen van 1.



___ sprongen van 10
en 8 stappen van 1.

Opdracht 2

> Hoeveel zit er tussen de getallen?
Vul in.



Opdracht 3

> De prinses staat in het midden.
Vul in.

Ik sta op ____.

34 82

Ik sta op ____.

42 98

Ik sta op ____.

76 100