



Opdracht 1


> Kijk naar het voorbeeld.




$$20 - 12 + 10 + 30 = 48$$




> Maak de sommen.
Tel op of trek af.



> Bedenk een som.





Opdracht 2

> Kijk naar het voorbeeld.

> Met welke rij getallen kun je het getal in het rondje maken?

Trek een lijn.

> Maak sommen.

Tel op of trek af.

Example calculation: $2 + 8 - 5 + 9 = 14$

Grid:

4	2	7	3
5	8	6	5
10	5	8	10
6	9	8	7

Target numbers in circles: 11, 14, 16, 12, 18, 17, 13, 7

Connections: A line connects the number 14 in the top circle to the number 2 in the grid. Another line connects the number 11 in the middle circle to the number 7 in the grid.