



1

Schrijf het getal. Zet van minder naar meer.



3 duizendtallen, 5 honderdtallen, 9 tientallen

4 duizendtallen, 6 tientallen, 7 lossen

4 duizendtallen, 9 honderdtallen, 9 lossen

3 duizendtallen, 8 honderdtallen, 3 lossen

4 duizendtallen, 4 tientallen, 4 lossen

3 duizendtallen, 8 honderdtallen, 8 lossen

<input type="text"/>	<input type="text"/>	<input type="text"/>	<input type="text"/>	<input type="text"/>	<input type="text"/>
----------------------	----------------------	----------------------	----------------------	----------------------	----------------------



2

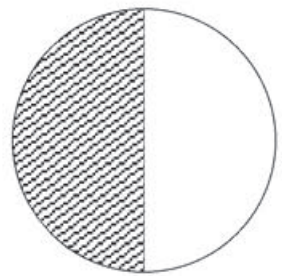
Maak de rij af.



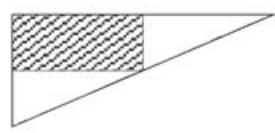
0	1000	2000	3000	4000	5000	6000	7000	8000	9000	10.000
5750	6000	6250	<input type="text"/>	<input type="text"/>	<input type="text"/>	<input type="text"/>	<input type="text"/>	<input type="text"/>	<input type="text"/>	<input type="text"/>
8984	8994	9004	<input type="text"/>	<input type="text"/>	<input type="text"/>	<input type="text"/>	<input type="text"/>	<input type="text"/>	<input type="text"/>	<input type="text"/>
<input type="text"/>	<input type="text"/>	<input type="text"/>	<input type="text"/>	<input type="text"/>	<input type="text"/>	<input type="text"/>	<input type="text"/>	9004	9006	9008
<input type="text"/>	<input type="text"/>	<input type="text"/>	<input type="text"/>	<input type="text"/>	<input type="text"/>	<input type="text"/>	<input type="text"/>	8025	8050	8075

3

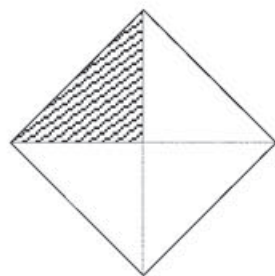
Welk deel is gekleurd? Kies $\frac{1}{2}$, $\frac{1}{4}$ of $\frac{1}{3}$.



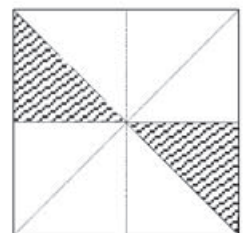
$\frac{1}{2}$ deel



_____ deel




_____ deel



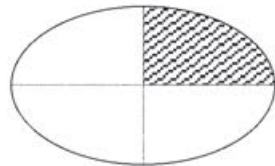
_____ deel



_____ deel



_____ deel



_____ deel



_____ deel